

2018年成人高考历史地理综合模拟试题及答案(1)

考生注意:本试卷分第I卷(选择题)和第II卷(非选择题)两部分。满分150分,考试时间120分钟。

第I卷(选择题共80分)

一、选择题:本大题共40小题,每小题2分,满分80分。在每小题列出的四个选项中,只有一项是符合题目要求的。

1. 戊戌变法失败的最主要原因是()

- A. 中国资本主义发展不充分、资产阶级维新派十分软弱
- B. 依靠没有实权的皇帝
- C. 顽固势力强大
- D. 帝国主义的破坏

答案:D

2. 确立行政、立法、司法三权分立的政治原则,具有资产阶级共和国宪法性质的历史文献是()

- A. 《钦定宪法大纲》
- B. 《修正大总统选举法》
- C. 《中华民国约法》
- D. 《中华民国临时约法》

答案:A

3. 我国有文字可考的历史始于()

- A. 夏朝
- B. 商朝
- C. 西周
- D. 春秋

答案: B

4. 下列各项不符合历史事实的是()

- A. 祖冲之是我国西汉著名的数学家
- B. 《齐民要术》是北魏时期农学家贾思勰的著作
- C. 王羲之是东晋时期的书法家
- D. 《神灭论》是反对佛教的

答案:A

5. 在科举考试中首创武举和殿试是在()

- A. 隋炀帝统治时期
- B. 唐太宗统治时期
- C. 武则天统治时期
- D. 唐玄宗统治时期

答案:C

6. 受唐朝文化影响而在本国各级学校教授儒学的是()

- A. 日本
- B. 朝鲜
- C. 印度
- D. 阿拉伯

答案:A

7. 支持王安石变法的皇帝是()

- A. 宋太祖
- B. 宋太宗
- C. 宋神宗
- D. 宋高宗

答案:C

8. 中国近代史以鸦片战争为开端,主要是因为()

- A. 中国自给自足的自然经济已经解体
- B. 中国第一次被西方资本主义强国打败
- C. 鸦片战争后中国社会性质开始发生变化

D. 鸦片战争后民族矛盾成为主要矛盾

答案:C

9. 下列关于《天朝田亩制度》的评述, 正确的是()

- ①是几千年来中国农民反封建思想的结晶
- ②提出了第一个在中国发展资本主义的方案
- ③是一种绝对平均主义思想的反映, 不可能实现
- ④是太平天国后期干王洪仁玕提出的改革内政的新方案

A. ②③

B. ①④

C. ②④

D. ①③

答案:D

10. 著名爱国诗人丘逢甲在《春愁》一诗中写道: “春愁难遣强看山, 往事惊心泪欲潸。四百万人同一哭, 去年今日割台湾。” 这首诗描写的历史事件是()

A. 第二次鸦片战争

B. 中法战争

C. 甲午中日战争

D. 八国联军侵华战争

答案:C

11. 我国彻底废除几千年来封建剥削土地制度的标志是()

A. 新中国建立

B. 全国土地改革基本完成

C. 《中华人民共和国宪法》颁布

D. 三大改造完成

答案:B

12. 为中共十一届三中全会召开奠定思想基础的是()

A. 《关于建国以来党的若干历史问题的决议》

B. 四项基本原则的提出

C. 关于真理标准问题的讨论

D. 《解放思想, 实事求是, 团结一致向前看》

答案:C

13. 被恩格斯称为“文艺复兴时期的巨人”的是()

A. 加尔文

B. 达·芬奇

C. 但丁

D. 莎士比亚

答案:B

14. 标志美国独立战争开始的事件是()

A. 波士顿倾茶事件

B. 来克星顿枪声

C. 第二届大陆会议召开

D. 萨拉托加大捷

答案:B

15. 世界被瓜分完毕, 资本主义世界体系最终形成是在()

A. 19 世纪初

B. 19 世纪中期

C. 20 世纪初

D. 20 世纪中期

答案:C

16. 列宁说: “新经济政策的实质是无产阶级同农民的联盟, 是先锋队无产阶级同广大农民群众的结合。” 理解列宁所

说，最能体现这一“实质”的是()

- A. 废除实物配给制
- B. 恢复市场经济
- C. 用粮食税代替余粮收集制
- D. 实行工资级别制

答案:C

17. 美国提出“欧洲复兴计划”的根本目的是()

- A. 稳定欧洲大部分国家现存制度
- B. 推行“遏制共产主义”政策
- C. 对苏联和东欧地区进行经济渗透
- D. 帮助欧洲复兴经济

答案:A

18. 下列对“独联体”的表述正确的是()

- A. 是在苏联原加盟共和国独立基础上成立的
- B. 它是苏联全民公决的产物
- C. 它的成立直接导致了“八一九”事件
- D. 它的组成仿效了前南斯拉夫地区的做法

答案:A

19. 下列口号中，最能反映五四运动性质的是()

- A. 废除“二十一条”
- B. 还我青岛
- C. 惩办卖国贼
- D. 外争主权、内除国贼

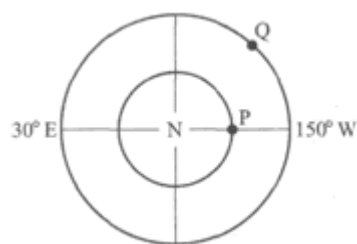
答案:D

20. 抗战初期，国民政府在正面战场组织了多次重大战役。其中，国共两党军队在战场上协同作战的战役是()

- A. 淞沪会战
- B. 徐州会战
- C. 武汉会战
- D. 太原会战

答案:D

21. 读图，如果N是北极点，请判断Q点的方位是在P点的()



- A. 正东方向
- B. 正南方向
- C. 西南方向
- D. 东南方向

答案:D

22. 若东半球处于昼半球时，则下列现象正确的是()

- A. 北京昼短夜长
- B. 刚果盆地正值黑夜
- C. 当日赤道正午太阳高度达一年最大值
- D. 南极圈内出现极夜现象

答案:C

23. 周围与五个大洲相邻的大洋是()

- A. 太平洋、北冰洋

- B. 大西洋、太平洋
- C. 印度洋、大西洋
- D. 北冰洋、印度洋

答案:B

24. 当北极圈内极昼范围最大时, 下列四个岛屿昼短夜长的是()

- A. 库页岛
- B. 爪哇岛
- C. 火地岛
- D. 西西里岛

答案:C

25. 既是两大洋又是两大洲分界线的海峡是()

- A. 马六甲海峡
- B. 白令海峡
- C. 直布罗陀海峡
- D. 土耳其海峡

答案:B

26. 实际相距 75 千米的两地, 在地图上距离是 3.75 厘米, 该图的比例尺是()

- A. 1: 2000000
- B. 1: 200000
- C. 1: 20000000
- D. 1: 20000

答案:A

27. 下列关于降水的叙述, 正确的是()

- A. 高压控制的地区, 容易形成降水
- B. 盛行下沉气流的地区, 降水稀少
- C. 沿海地区的山地必然多雨
- D. 信风控制的地区必然降水少

答案:B

28. 下列现象中昼夜温差最大的是()

- A. 陆地昼夜晴天
- B. 海洋昼夜多云
- C. 海洋昼夜晴天
- D. 陆地昼夜多云

答案:A

29. 当地球运行到远日点时, 我国出现的地理现象是()

- A. 长江中下游地区刚进入梅雨期
- B. 黄河进入枯水期
- C. 东部地区盛行偏北风
- D. 雨带推移到华北、东北地区

答案:D

30. 下列河湖未参与海陆间循环的是()

- A. 洞庭湖、珠江
- B. 雅鲁藏布江、纳木错
- C. 青海湖、塔里木河
- D. 额尔齐斯河、贝加尔湖

答案:C

31. 下列关于温带海洋性气候特征的叙述, 正确的是()

- A. 全年各月平均气温均在 10℃ 以上
- B. 降水量大, 集中在冬季
- C. 全年盛行西风, 降水比较均匀

D. 气温变化曲线变化幅度大

答案:C

32. 现在我国对三江平原已经停止垦荒, 主要原因是()

A. 保护湿地生态系统

B. 土地日渐贫瘠, 产出降低

C. 我国粮食产量已经过剩

D. 准备开发石油资源, 建立石油基地

答案:A

33. “西出阳关无故人”, 离阳关最近的我国古代艺术宝库是()

A. 龙门石窟

B. 莫高窟

C. 云冈石窟

D. 麦积山石窟

答案:B

34. 近年来中国老龄化的进程明显加快, 其主要原因是()

A. 经济发展迅速和城市化水平高

B. 人口自然增长率下降和生活水平提高

C. 平均寿命延长和自然增长率上升

D. 环境质量改善和人口素质提高

答案:B

35. 下列铁路中, 整条铁路均处于我国地势第一级阶梯上的是()

A. 南昆铁路

B. 成昆铁路

C. 青藏铁路

D. 兰新铁路

答案:C

36. 近年来北京市场上出现了品种繁多的热带花卉, 这是因为()

①北京自然条件的改变

②北京市场需求的变化

③税收政策的变化

④交通和冷藏条件的改变

A. ①②

B. ②④

C. ③④

D. ②③

答案:B

37. 引发下列环境问题的原因并不是因为森林减少的是()

A. 臭氧层破坏

B. 土地荒漠化

C. 水土流失

D. 生物多样性锐减

答案:A

38. 近年来世界一些大型企业集团纷纷合并, 从工业布局因素考虑主要原因是()

A. 原料供给方便

B. 环境条件制约

C. 争夺市场份额

D. 垄断资本发展

答案:C

39. 修建水库容易引起的环境问题是()

A. 水源污染

- B. 土壤盐碱化
- C. 酸雨
- D. 植被种类减少

答案:B

40. 我国西北地区发展农业生产最主要的限制性因素是()

- A. 土地资源不足
- B. 化肥农药不足
- C. 劳动力不足
- D. 水资源不足

答案:D

第II卷(非选择题共70分)

二、非选择题: 41~46 小题, 共 70 分。

41. 指出第二次世界大战后美国和西方国家推行冷战政策的主要事例, 并概述其主要内容。(12分)

答案: 主要事例有丘吉尔的反苏反共演说, 美国以希腊、土耳其受到威胁为由对苏联等社会主义国家发动冷战, “马歇尔计划”和组成北约等。丘吉尔的演说公开主张遏制苏联等社会主义国家; 美国总统杜鲁门以援助希腊、土耳其为由, 提出要遏制共产主义; “马歇尔计划”借援助西欧经济复兴之名, 以经济援助为手段, 稳定西欧, 控制西欧; 美国与欧洲一些国家组成政治军事集团——北大西洋公约组织, 针对苏联进行冷战。

42. 阅读材料, 回答问题。

材料一

革命导师并不认为自己提出的理论是已经完成了的绝对真理或“顶峰”, 可以不受实践检验: 他们处处时时用实践来检验自己的理论、论断、指示。

——摘自《实践是检验真理的唯一标准》

材料二

有一些同志天天讲毛泽东思想, 却往往忘记、抛弃甚至反对毛泽东同志的实事求是、一切从实际出发、理论与实践相结合的这样一个马克思主义的根本观点……他们的观点, 实质上是主张照抄马克思、列宁、毛泽东同志的原话, 照抄照转照搬就行了。

——摘自 1978 年 6 月 2 日邓小平在全军政治工作会议上的讲话

概述真理标准问题大讨论的内容及意义。

答案: (1) 为了反对“两个凡是”的错误方针, 1978 年思想理论界展开了一场真理标准问题的讨论。(2) 这次讨论肯定“实践是检验真理的唯一标准”, 否定了“两个凡是”的错误观点, 重新确立了实事求是的马克思主义思想路线。(3) 这是一次深刻的思想解放运动, 打破了长期以来的个人崇拜和教条主义思想的束缚, 为党的十一届三中全会的召开作了思想上和理论上的准备。


43. 读下列三处景观图, 回答下列问题:



甲



乙



丙

(1) 三地均为世界著名旅游胜地, 其中甲处所在国家有_____河流经, 该国的气候特征是_____。

(2) 乙处所在国家境内的大洲界线是_____, 其在世界交通中的重要性是_____。

(3) 丙处所在国家的农业发达, 主要经济作物有_____; 该国高新技术产业发展迅速, 主要工业中心在_____。

(4) 今天乙处旅游景观破坏严重, 原因是_____。

答案: (1) 湄公河全年高温, 有明显的雨季和旱季。(2) 苏伊士运河沟通红海和地中海, 大大缩短了从欧洲、北美洲到印度洋、太平洋的航程。(3) 棉花、黄麻、茶叶班加罗尔。(4) 地处热带沙漠, 昼夜温差大、风力强, 风化、侵蚀强烈。

44. 读图 1-1, 完成以下小题:

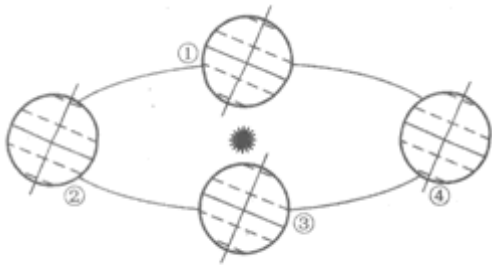


图 1-1

(1) 在图中用箭头表示出地球公转的方向。

(2) 当地球处于②位置时，正值北半球的_____ (节气)，此时太阳直射的纬线是_____，下列城市中白昼最长的是：_____ (选择填空)

- A. 北京
- B. 上海
- C. 哈尔滨
- D. 广州

(3) 当悉尼和北京昼长相同时，地球处于—— (选择填空)

- A. ①
- B. ②
- C. ③
- D. ④

(4) 当地球处于④位置时，北极圈内出现_____现象，该日后，太阳直射点将向_____ (方向) 移动。

(5) 当地球自①向②运动的过程中，北京的正午太阳高度角逐渐_____ (变大或变小)，地球公转的速度将逐渐_____ (变快或变慢)

答案: (1) 方向: 自西向东 (逆时针方向)

(2) 夏至北回归线 C

(3) AC

(4) 极夜北

(5) 变大变慢

46. 读图 1-2，回答下列问题:

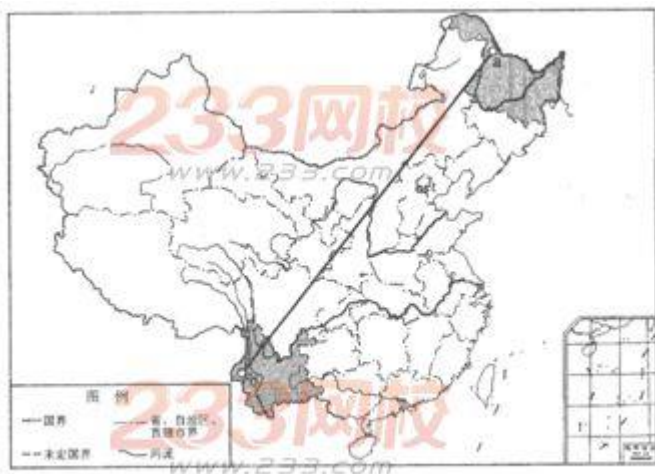


图 1-2

(1) 图中 ab 线是我国重要的人口分布地理界线，a 是_____省的_____，b 是_____省的_____；

(2) ab 沿线经过的省级行政单位中，有两个简称的共有_____个；

(3) 我国人口地理的空间分布特点是_____，这一现状的存在具有一定的合理性，表现在_____；

(4) 近年来城市日益密集，形成了 6 个世界级的超级城市群，其中在我国境内的是_____地区的城市群，除此以外，亚洲还有周边的城市群；

(5) 我国西部地广人稀，资源丰富，在实施西部大开发战略时，为可持续发展考虑，必须把_____放在工作的首位。

答案: (1) 黑龙江黑河云南腾冲

(2)4个

(3)黑河—腾冲线以东南地区人口稠密，以西北地区人口稀疏

我国东部沿海地区土地相对平整肥沃、降水丰沛、水源充足、交通便利、历史悠久，自然和社会经济条件均较西北为优，更适宜于人类生存发展

(4)长江中下游地区

(5)保护生态环境

45. 阅读以下材料，回答问题：

“秦王坚与阳平公融登寿阳城望之，见晋军部阵严整，又望八公山上草木皆以为兵，顾谓融曰：“此亦劲敌，何谓弱也？”恍然始有惧色。……玄等乘胜追击……秦兵大败，自相蹈藉而死者，蔽野塞川。其走者闻风声鹤唳，皆以为晋兵且至，昼夜不敢息，草行露宿，重以饥冻，死者什七八。……”

——引自《资治通鉴》

回答：

(1)上述材料所反映的著名战役名称是什么？交战双方分别是谁？

(2)这场战役结局如何？原因是什么？

(3)对这场战役的评价是什么？

答案：(1)淝水之战。前秦和东晋。(2)东晋取胜，前秦兵败。东晋军队战斗力强；北方人民希望东晋取胜；前秦统治不稳固；前秦军队中的汉、羌、鲜卑士兵不愿意为秦军卖命。(3)淝水之战是以少胜多的战役，战后不久，形成了南北对峙的局面。